



الصف الرابع

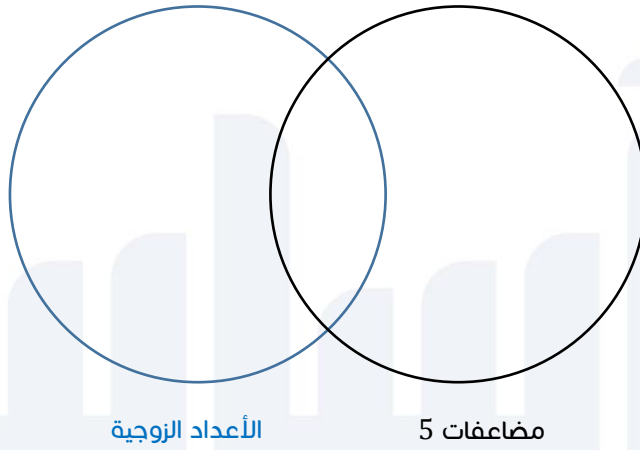
# رياضيات

ورقة عمل 27

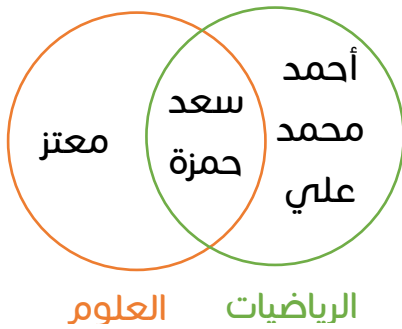
**س1:** أمثل في شكل قن المجاور كل مجموعة مما يأتي:

(أ) مضاعفات العدد 5 حتى 25.

(ب) الأعداد الزوجية حتى 15 ابتداء من "2".



**س2:** يبين شكل قن المجاور المادة التي يفضلها بعض طلاب الصف الرابع:



**1-** من الطلبة الذين يفضلون مادة الرياضيات فقط؟

**2-** من الطلبة الذين يفضلون المادتين معاً؟

**3-** من الطلبة الذين يفضلون مادة العلوم فقط؟

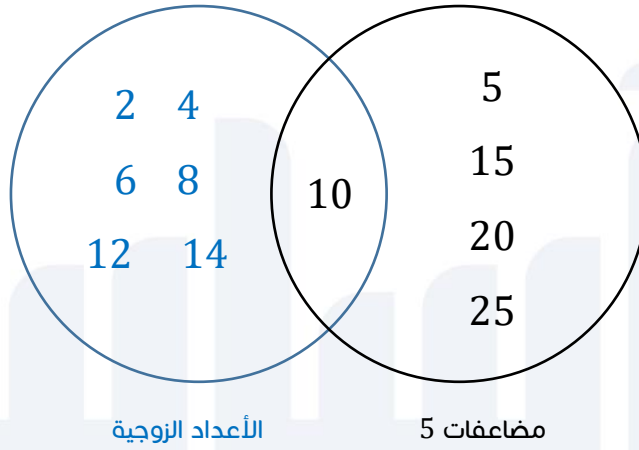
**س1:** أمثل في شكل قن المجاور كل مجموعة مما يأتي:

(أ) مضاعفات العدد 5 حتى 25.

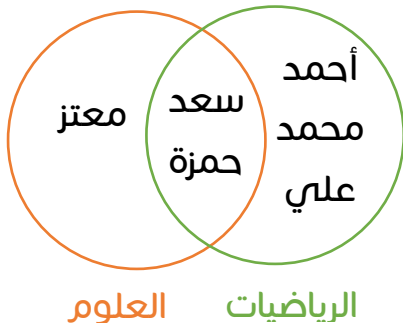
5 , 10 , 15 , 20 , 25

(ب) الأعداد الزوجية حتى 15 ابتداء من "2".

2 , 4 , 6 , 8 , 10 , 12 , 14



**س2:** يبين شكل قن المجاور المادة التي يفضلها بعض طلاب الصف الرابع:



**1-** من الطلبة الذين يفضلون مادة الرياضيات فقط؟

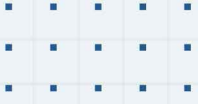
أحمد / محمد / علي

**2-** من الطلبة الذين يفضلون المادتين معاً؟

سعد / حمزة

**3-** من الطلبة الذين يفضلون مادة العلوم فقط؟

معتز



# فيديوهات شرح المادة بشكل كامل على بطاقات أساس

